

RALLY "PRINS BERNHARD h.b.s." Vrijdag, 6 mei 1966

Reglement:

1. We maken een "rally" met 9 autobussen, d.w.z. een tocht met opdracht in de vorm van een wedstrijd. Voor het juist en/of op tijd vervullen van een opdracht worden punten toegekend. De bus, die uiteindelijk de meeste punten verwerft, is winnaar van de rally.
2. In elke bus is één leerling als routeleider aangewezen. Hij/zij kiest zelf nog een assistent(e) uit de eigen bus. De routeleiders geven de chauffeur aanwijzingen hoe hij moet rijden.
3. De chauffeur mag beslist geen aanwijzingen verstrekken, maar rijdt alleen volgens de aanwijzingen van de routeleiders.
4. In elke bus bevinden zich twee leraren-controleurs. Deze zijn als zodanig lid van de jury en mogen dus geen inlichtingen verschaffen.
5. De uit te reiken foto's zijn gemaakt van objecten, die zich langs de route bevinden. Bij herkenning van een object dient dit direct aan de routeleider te worden gemeld.

Startschema:

Vertrek Gijzenveltplantsoen

Bus:

1.	9.03
2.	9.06
3.	9.09
4.	9.12
5.	9.15
6.	9.18
7.	9.21
8.	9.24
9.	9.27

ROUTEBESCHRIJVING:

III

OPDRACHTEN

Vanaf startplaats Gijzenveltplantsoen bij r rechtsaf, dit nogmaals bij r 603

We steken de Waal over en gaan dan rechtsaf de Maas op. Bij r links af langs r en r 571
110300 1043

We hebben dan aan onze rechterhand een gebied waar alleen op heren worden gerekend.

Links worden we herinnerd aan de koningin en een van haar schoonzoons.

Bij Bethel gaan we in de richting van de Braambos en draaien over de spoorlijn de buurman de rug toe een weg in, die ons aan chocolade en kinderwetten herinnert. We rijden rechtdoor in de richting waar een zware pijp wordt gerookt.

Bij de voorrangsweg kunnen we kiezen tussen een boot en een auto. We nemen de autoroute. Deze loopt gedeeltelijk tussen bos en water door. We passeren een gevaarlijke bocht en en letten op wielrijders en voetgangers.

We laten ons niet om de weg leiden, mogen vaart meerderen en willen rechtsaf slaan. Eerst mag het niet en dan gelukkig wel.

We rijden om naar het noorden te gaan eerst naar het zuiden.

- 1) Wat kan men bij de toegang tot dit gebied niet krijgen?
- 2) Wat probeert de dealer van de "Koninklijke" ons nog meer aan te smeren?
- 3) Welke sluis in IJmuiden is niet voor schepen?
- 4) Wanneer werd het Noordzeekanaal geopend?
- 5) Noem de namen van 6 sleepboten van Wijsmüller.
- 6) Hoeveel stations en n.s. haltes telt de gemeente Velsen?
- 7) Maak een goed gelijkende tekening van het wapen van de gemeente Velsen.
- 8) Waarvoor wordt men op nr. 10 opgeleid?
- 9) Uit welke eeuw stamt de kerk aan je linkerhand?
- 10) Wat doet men in deze onderdoorgang tegenovergesteld aan op de pont?
- 11) Op hoeveel meter schat je deze buis?

Opdrachten 1 t/m 11 inleveren bij de controleurs

*) = niet uitstappen!!!

ROUTEBESCHRIJVING

Boven de grond gekomen verlaten we route N 99 en volgen 2 van de borden met R erop. Bij een derde dergelijk bord houden we echter de voorrangsweg en gaan over N 99 en houden bij einde autoweg over de spoorweg rechtsaan.

Gaan rechts van Bodega langs.

We zien dat krom en slecht tegenover elkaar staan en gaan links langs Marcelle naar het Noorden,

Bij stoplichten gaan we rechtsaf en denken aan een vliegende Hollander. Rech^t loor over een kruispunt met links een stoere man, laten we de kleine apostel links liggen, en draaien in klokwijsrichting om een grote apostel heen en denken bij de namen rechts aan propellers.

Om de volgende kerk draaien we in tegen-klokwijsrichting de aardbeienstad de rug toe. Ook de prima lunch laten we staan, we gaan rechtdoor.

OPDRACHTEN

- 12) Wat verkoopt Slings behalve kolen?
- 13) Waar is men niet voor de poes als de firmanaam letterlijk genomen wordt en men zonder betalen de deur uitloopt? *)
- 14) Welk familielid woont in deze straat? *)
- 15) Op welk nummer woont Hou Sing? *)
- 16) Welk bord op nr. 51 is niet door de ANWB geplaatst?
- 17) Wat verkoopt de firma waar de haan uithangt?
- 18) Welke festiviteit komt er overmorgen volgens de aankondiging, op nr. 289?

- 19) Hoeveel klokken heeft het carillon?

Opdrachten 12 t/m 19 inleveren bij de controleurs

- 20) Tel de 2-zijdige puntdaken van de huizen, die met hun gevel loodrecht op het westen staan van en met nr. 15 tot de eerste weg rechts
- 21) Welke tante komt regelmatig op nr. 24?

Bij 1593 laten we de metgezel van Willem Barends links liggen en zien dan een geest in de verte.

- 22) Hoe heet de herberg aan de rechterkant?

Bij 517 rechtdoor tot de geest eruit is.

- 23) Wat is opgeslagen in de cylinder bij bushalte X nr. 19, na huis Riedijk?
- 24) Bij welke plaatsnaam op dit bord denk je aan T.T. races en koninklijke grafkelders?
- 25) Hoe heet de plaatselijke voetbalvereniging? en wat kost de entree voor volwassenen?
- 26) Wat moet je hier beslist worden?
- 27) Wie krijg je aan de telefoon als je nr. 210 belt?

Bij de spoorbomen nemen we de rijksweg rechtsaf, richting Velsen 7,8 km.

- 28) Hoe kan men op de boerderij met de blauwe deur (links) de veestapel vergroten?
- 29) Hoeveel ramen bevinden zich in de voorzijde van de huizen bij de spoorbomen?
- 30) Welk ingrediënt ontbreekt er voor een goede kop koffie bij de fabriek rechts? *)
- 31) Sedert wanneer rijdt men hier al onder de weg door? *)

Opdrachten 20 t/m 31 inleveren bij de controleurs

*) = niet uitstappen!!!

ROUTEBESCHRIJVING

OPDRACHTEN

We vervolgen de weg loodrecht op het viaduct en vinden na enkele km. een amfibie, dat ons weiwater aanbeveelt.

Even later bereiken we de boomgrens.

- 32) Open enveloppe 1 en voldoe aan opdracht. *)
33) Wie zit er links op de tribune van GVO? *)
34) Bij wie kan je leren draven? *)
35) Ga niet "het witte huisje" in want hoe luidt de spreuk op het groene houten huisje links? *)

Waar de twee evenwijdige lijnen door een derde worden gesneden houden we de linkse evenwijdige lijn.

- 36) Aan welke zegswijze doet je de naam van de uitvoerder van dit wegenbouwwerk denken? *)

We komen dan vanzelf in een plaats waarvan de eerste vier letters biologisch niet verenigbaar zijn met de laatste vier letters.

- 37) Wat verkoopt de man die 23 letters van het alfabet overslaat? *)
38) Waarmee eet men er beter van? *)
39) Op welk nummer vind je zwart op wit? *)
40) Hoe heet de weg waarop je rijdt? *)
41) Hoeveel molens tel je rechts na het le bord 70 km. tot aan bord "langzaam rijden"?)

We vervolgen onze weg tot we links moeten voorsorteren en maken een hoek van 90° met de ijzeren lijn en volgen de richting naar het eind van een polder.

We komen bij een brug over een historische stroom en bij het zien van al die gebouwen met uitsteeksels, waarvan het buitenland denkt, dat het hier vol van staat, welt een lied in ons op.

- 42) Zing dit lied bij het overgaan van de brug uit volle borst.
Rechts voor de brug zie je een groene molen "de Bleke Dood" met het volgende rijmpje:
"Ik ben het einde van het
Een ieder zij tot mij bereid.
Door volop arbeid hier te geven.
Weet dat ik werk te allen "
) Vul de ontbrekende woorden in.

Opdrachten 32 t/m 43 inleveren bij controleurs

Op het volgende traject mag niet harder gereden worden dan 50 km.!!!!

- 44) Open enveloppe 2 en voldoe aan opdracht. (enveloppe 2 bij controleur)

ROUTEBESCHRIJVING

Voorlopig laten we het polderlandschap aan ons voorbijgaan, ongeveer ^{gros}~~dozijn~~ km.

Bij een alliterende plaatsnaam houden we rechtsaan, dan komen we aan een end.

We gaan dan over een brug over een thans **minder druk gebruikt** kanaal en gaan rechtdoor. Zodra de hof van eden gepasseerd is: rechtsaf.

Vervolgens slaan we weer eens links af een straat in, die noch oud noch lang is. We passeren een 84-jarig agrarisch bouwwerk en enkele fraaie gevel-tjes.

De bebouwing aan de rechterkant eindigt. Voorbij de bushalte parkeren we onze bus en wachten op opdrachten van de controleur.

OPDRACHTEN

- 45) Onder welk nr. bereik je een koninklijke sloper?
- 46) Waar kunnen we in geval van nood twee **docenten** kwijt?
- 47) Hoe bereik je hotel "Schoonzicht"?

Opdrachten 44 t/m 47 inleveren bij controleurs

Tweede gedeelte ROUTEBESCHRIJVING

ROUTE BESCHRIJVING

De opdrachten zijn uitgevoerd en als iedereen gezeten is, starten en rechtsomkeert maken.

Het zuivelbouwwerk ligt als we het passeren nu aan onze linkerhand. Zodra het kan en mag rechtsaf.

Bij het verblijf van Adam en Eva, slaan we links af en vervolgens gaan we vóór de brug naar rechts.

Let 3 x op verkeer van rechts, ga de volgende brug over en zorg dat de drie meren vlak bij je linkerhand blijven.

Vervolg de route in de richting van timmergereedschap.

Je stuit zit in dit geval dan rechts.

Bij eerste kruising gekomen draaien we de nek niet, voorkomen een stijve nek en houden het op het zonnige zuiden.

Bij de volgende kruising laten we de hoop varen en snellen naar het midden van de polder.

Hoog in de bomen huist hier een kolonie steltlopers.

De volgende boerderij is naar familie van hen genoemd.

Links wonen twee koninginnen naast elkaar.

OPDRACHTEN:

- 48) Tel de bruggen links na de spar.
- 49) Welke vruchten gaan de bomen dragen na 50 tot bord voorrang?
- 50) Wat tref je rechts van ouds aan?
- 51) Op welk nummer heeft men zich links in nieuwe zorgen gestoken?
- 52) Welk nr. staat hier onder hoogspanning?
- 53) Wat doet je rechts op de hoek aan het verleden van de polder denken?
- 54) Wat is de naam en de leeftijd van de eerste boerderij links van de hoek.
- 55) Welke steltlopers zijn dat?
- 56) Geef de naam + een synoniem.
- 57) Hoe heten hun huizen?

Opdrachten 48 t/m 57 bij de controleurs inleveren

In het midden gekomen op het rustieke pleintje is het schafttijd voor de bus en gaan we de antwoorden op de volgende vragen zoeken.

DENK OM HET VERKEER!!!

- 58) Wie woonde in de 18e eeuw op Middenweg 178?
- 59) Waar woont de ANWB consul?
- 60) Wanneer is hier de eerstvolgende beatshow?
- 61) Welke wapens staan op het raadhuis afgebeeld?
- 62) Wat doet een verstandige huisvrouw?
- 63) Hoe oud zou Klaas Kunst nu geweest zijn?
- 64) Wie leefde er van 1575 tot 1650?
- 65) Wat kon men vroeger laten doen in het groene huisje schuin tegenover de kerk?
- 66) Wanneer werd de kerk gebouwd?
- 67) Hoe kondigt de plaatselijke voetbalvereniging aan als de wedstrijd niet doorg.

Opdrachten 58 t/m 67 bij de controleurs inleveren en vlug weer instappen

ROUTEBSCHRIJVING

We rijden nu in N.N.O. richting verder.

Bij de volgende kruising als ons de weg versperd wordt, gaan we links af, naar het Noord Westen.

Bij een kruising gaan we naar rechts, en onmiddellijk links vind je een H₂O - hekelaar.

We passeren dan rechts een sterrebeeld.
Links gaan we een bedevaartplaats voorbij.

Rechts van ons is het bosrijk.

Bij een kruispunt met een voorrangsweg gaan we naar bakboord overstag met de boreelhoeve in de rug.

OPDRACHTEN

- 68) Welke plaats passeer je links?
69) Noteer de naam van nr. 154.

70) Welk pleonasme zie je links op de schuur?

71) Als je bij de namen op de molen o voegt, krijg je twee namen van dieren; wat is hun dagelijkse handeling?

72) Welk beroep oefent deze man uit?

73) Bij welk huis denk je aan de winter?

74) Welke liefelijke Griekse landstreek is rechts vernoemd?

75) Wie heeft hier geen oren?

ROUTEBESCHRIJVING:

OPDRACHTEN

Nadat we geconstateerd hebben, dat Henny en Piet in het water niet naast het verleden liggen, vervolgen we onze weg naar de kaasstad, voorbij het geluid van een klok.

Ga over de brug rechtsaf.

Bij den Helder 41 rechtdoor. Na over de spoorbomen te zijn gegaan direct links af. Volg de krommingen in de weg en zoek het water op.

Bij voorrangsweg niet over de brug en ook niet de stad in, maar langs familie van de geestelijke moeder van het schaap Veronica, naar een plaats, waarbij je aan een rollend hoofd en aan een hoornachtig beeneinde kunt denken.

Bij het zien van twee afgetuigde molens, wellen er allerlei woorden met "molen" in ons op

We waaien links met alle winden mee.

Enkele km.'s verder gaan we langs een station, dat nog geen ruïne is,

passeren een lege hoeve

wachten even verder voor de hond.

Daarna zie je bij het naderen van een plaats twee historische figuren, die je om de verdere route in handen te krijgen een geuzenlied toe moet zingen, waarin in naam van Oranje de overgave van een stad wordt geëist.

99) Wat herinnert je links aan onze hoogste pieten?

100) Wie zal handhaven op de kanaalkade?

101) Noteer de veldbloemen, aan je rechterhand.

102) Op hoeveel meter vind je een benzinepomp?

103) Wat hangt onder camping?

104) Noem zoveel mogelijk samenstellingen, waarbij het eerste gedeelte van de samenstelling uit het woordje "molen" bestaat. (samenstelling moet bestaan uit twee zelfst. naamw.)

105) We verbinden een gedeelte van links wat oud is met een gedeelte van rechts dat vers is, je krijgt dan een werkwoord voor onfatsoenlijk eten. Welk?

Opdrachten 97 t/m 105 inleveren bij controleurs.

Derde gedeelte ROUTEBESCHRIJVING

ROUTE BESCHRIJVING

OPDRACHTEN

We gaan verder de hoeve binnen en passeren rechts een ruïne en links een slot.

106) Hoeveel plaatsnamen zie je links op één bord verenigd en wat is er fout?

Bij een leider van padvinders rechts-af. We passeren dan links een bewoonde champignon.

107) Waar is het kantoor van de firma, die in "Beekvliet" woont?

Na huize Bornholm zien we waar we 7,3 km. vanaf zijn.

108) Welke vogelsoort kan voetballen?

109) Hoe is de naam van de camping, die je niet in een woud zou verwachten?

110) Welk mensensoort is de naaste buur van de "Duinrand"?

We vervolgen de weg tot "de Fransman" en houden rechtsaan.

111) Welke vreemde vogel uit de politiek, vind je hier tussen de scheve bomen?

Volg route doorgaand verkeer.

Blijf route doorgaand verkeer volgen. Je moet dan bij een 5-sprong naar rechts, en komt dan langs een hertenkamp.

Bij weer een kruispunt houden we rechtsaan en gaan rechts op een bakhuis af.

We komen dan in een winkelstraat, Aan de linkerhand hebben we dan een bank en ploegstoffen.

Bij het kruispunt gaan we niet in de richting van de V.V.V., maar we zorgen, dat we een zeepaardje aan onze rechterhand krijgen. Albert is er ook weer.

We gaan langs Atlanta en Haamstede, rijden Beau Séjour voorbij.

112) Aan welke stad denk je als je rechts kijkt?

Recht door tot we in een tuin rechts enorm veel stoelen zien staan.

We letten scherp op een uithangbord met "vrouwtje van duin" en draaien voor een bocht in de weg naar links, waar we de bus laten rusten. Wij gaan ons dan vermaken.

Opdrachten nr.10 t/m 112 inleveren bij controleurs
De controleurs delen nog een keer consumptiesbonaen uit.

E i n d e v a n d e t o c h t




in



+a

&




A 4

v=f

a₁, a₂, ... a_n, ...



p=v

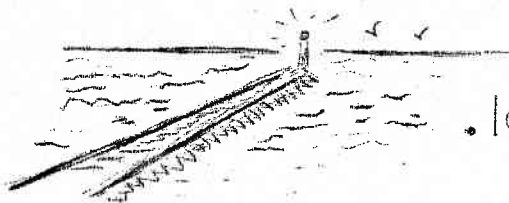


+ ag

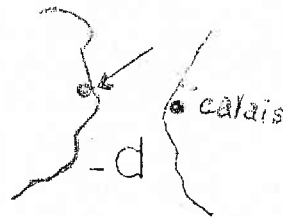
v +



p=h -t

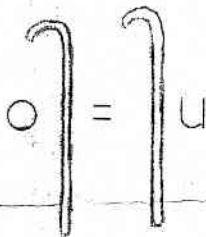


.lez...



f=d

11^e



u

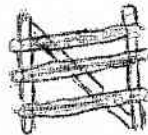
G



w



1 s



k=t

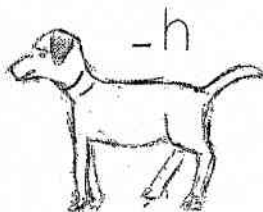
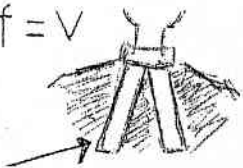
H₂O



-t

gew=z

f=v




-h

N

10

t=z



-w



-s



-tr



-n

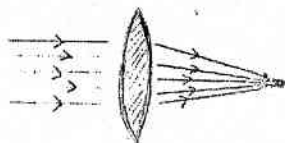


t=d


de



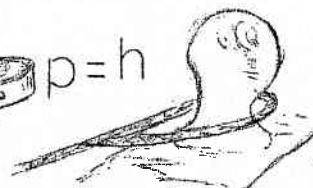
-l



in



p=h



b=p



h=l